

第四单元 达标测试卷

时间:90 分钟

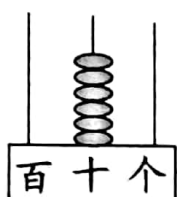
满分:100 分

题号	一	二	三	四	五	六	七	八	总分
得分									

tián yi tián

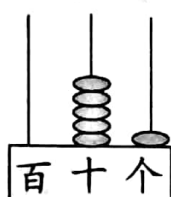
一、填一填。(28分)

1. 看图写数,读数。



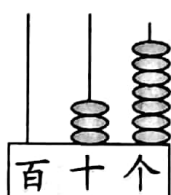
写作：

读作：



写作：_____


读作：_____



写作：_____

读作：_____

2. 想一想,填一填。



()个十和()

()个十

()个十和()

个一是()。

是()。

个一是()。

3. 7 个十和 3 个一组成的数是(), 55 是由()个十和()个一组成的。

4. 一个三位数的个位和十位上都是 0, 百位上是 1, 这个三位数是()。

5. 一个两位数,个位上的数字是3,十位上的数字比个位上的数字多2,这个两位数是()。

6. 在○里填上“>”“<”或“=”。

$14 \bigcirc 41$

$83 \bigcirc 48$

$五十六 \bigcirc 65$

$一百 \bigcirc 二十$

$6+3 \bigcirc 36$

$57 \bigcirc 57-7$

$74-4 \bigcirc 70$

$30+5 \bigcirc 45-5$

$62-2 \bigcirc 40+8$

pàn yì pàn duì de huà cuò de huà
二、判一判。(对的画“√”,错的画“×”)(5分)

1. 读数和写数都应从个位起。 ()

2. 25 是 23 和 24 之间的数。 ()

3. 西安大雁塔高六十四米,“六十四”写作“604”。 ()

4. “92”中的“9”在个位上,“2”在十位上。 ()

5. 个位上和十位上数字相同的两位数有 9 个。 ()

xuǎn yì xuǎn jiāng zhèng què dá àn de xù hào tián zài kuò hào lǐ
三、选一选。(将正确答案的序号填在括号里)(8分)

1. 四十五写作()。

A. 45

B. 405

C. 54

2. 和 80 相邻的两个数是()。

A. 81 和 82

B. 79 和 81

C. 78 和 79

3. 铅笔有 25 支,钢笔比铅笔多得多,钢笔可能有()支。

A. 10

B. 27

C. 98

4. 一个数比最小的两位数多 1,这个数是()。

A. 100

B. 11

C. 12

lián yì lián

四、连一连。(5分)

9

62

19

34

29



欢迎小于50的小朋友。



欢迎大于50的小朋友。

26

59

40

97

27

shǔ shù jiē lì sài

五、数数接力赛。(12分)

小明: 37、38、39

小平: 、 、

小王: 27、37、47

小红: 、 、

小真: 68、66、64

小白: 、 、

小何: 75、80、85

小月: 、 、

àn yāo qiú xiě yì xiě

六、按要求写一写。(16分)

12 23 96 83 73 65 28 99

55 77 93 39 32 25 66 56

85 45 36 41 69 49 24 100



大于10, 小于30
的来我这里。



大于30, 小于50
的来我这里。

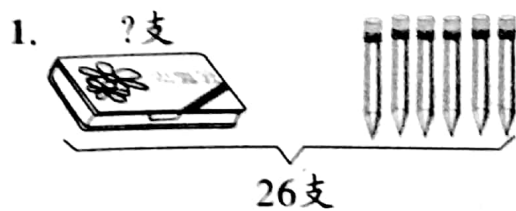


大于80的来
我这里。

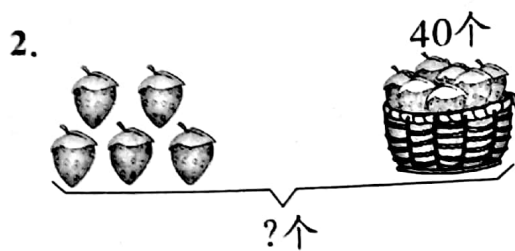


大于50, 小于80
的来我这里。

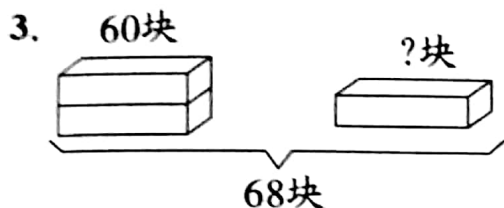
七、看图列式计算。(12分)



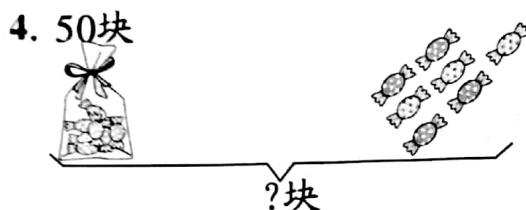
$$\square \bigcirc \square = \square (\text{支})$$



$$\square \bigcirc \square = \square (\text{个})$$



$$\square \bigcirc \square = \square (\text{块})$$



$$\square \bigcirc \square = \square (\text{块})$$

jiě jué wèn tí

八、解决问题。(14分)

1. 菜地里原来有 57 个萝卜，小兔子拔了一些后，还剩 7 个。小兔子拔了多少个萝卜？(5 分)

$$\square \bigcirc \square = \square (\text{个})$$

答：小兔子拔了()个萝卜。

2. 下面是天天鲜水果店今天的进货单。(9 分)

种类	梨	苹果	香蕉
箱数	48	40	8

- (1) 梨比苹果多几箱？(4 分)

$$\square \bigcirc \square = \square (\text{箱})$$

答：梨比苹果多()箱。

- (2) 你还能提出什么数学问题？提出并解答。(5 分)

第四单元

一、1. 略 2. 略

3. 73 5 5 4. 100 5. 53

6. 略

二、1. \times 2. \times 3. \times 4. \times 5. \checkmark

三、1. A 2. B 3. C 4. B

四、略

五、略

六、小兔子: 12、23、28、25、24

小松鼠: 39、32、45、36、41、49

小熊猫: 96、83、99、93、85、100

小鸟: 73、65、55、77、66、56、69

七、1. $26 - 6 = 20$ 2. $5 + 40 = 45$

3. $68 - 60 = 8$ 4. $50 + 7 = 57$

八、1. $57 - 7 = 50$ 50

2. (1) $48 - 40 = 8$ 8 (2) 略